



Meu nome é _____ Hoje é dia ____/____/____.

VOCÊ JÁ SABE QUAL O NÚMERO DO SEU CALÇADO. ENTÃO, VAMOS ÀS COMPRAS. ESCOLHA UM PAR DE TÊNIS E ENVOLVA-O. DEPOIS OBSERVE O SEU PREÇO.

QUALQUER PAR DE TÊNIS
POR APENAS
20 REAIS.



AGORA, RISQUE AS NOTAS QUE VOCÊ PODE USAR PARA PAGAR PELO TÊNIS.



SE VOCÊ FOSSE PAGAR USANDO MOEDAS DE 1 REAL. DE QUANTAS MOEDAS PRECISARIA? REGISTRE . DEPOIS, FALE PARA A SUA TURMA COMO VOCÊ DESCOBRIU.

1




12345678910




Meu nome é _____ Hoje é dia ____/____/____.

VAMOS CONSTRUIR UM GRÁFICO?

PERGUNTE A CADA COLEGA QUAL O TÊNIS QUE ELE ESCOLHEU E PINTE UM RETÂNGULO  PARA CADA ESCOLHA.

ENVOLVA O TÊNIS MAIS ESCOLHIDO PELA TURMA E RISQUE O TÊNIS MENOS ESCOLHIDO.





Meu nome é _____ Hoje é dia ____/____/____.

NA LOJA DE DOCES



ESCREVA O TOTAL
DE BALAS USANDO
UM NÚMERO!!!



EM CADA PACOTE DE PAPEL FORAM COLOCADAS 10 BALAS. DESENHE A QUANTIDADE DE BALAS QUE HÁ EM:

1 PACOTE



QUANTIDADE TOTAL DE BALAS

2 PACOTES



QUANTIDADE TOTAL DE BALAS



32




12345678910



Meu nome é _____ Hoje é dia ____/____/____.

LEMBRA DA LOJA DE DOCES?


EM CADA PACOTE DE PAPEL HÁ **10** BALAS.



CADA BALA  É UMA **UNIDADE**.

QUANTAS UNIDADES DE BALAS HÁ NO PACOTE?

A CADA GRUPO DE **10 UNIDADES** DAMOS O NOME DE **DEZENA**.



QUANTAS DEZENAS DE BALAS HÁ NO PACOTE?



4




12345678910



Meu nome é _____ Hoje é dia ____/____/____.


ENVOLVA AS BALAS DE 10 EM 10. DEPOIS, ESCREVA A QUANTIDADE TOTAL DE BALAS E O TOTAL DE DEZENAS DE CADA GRUPO:



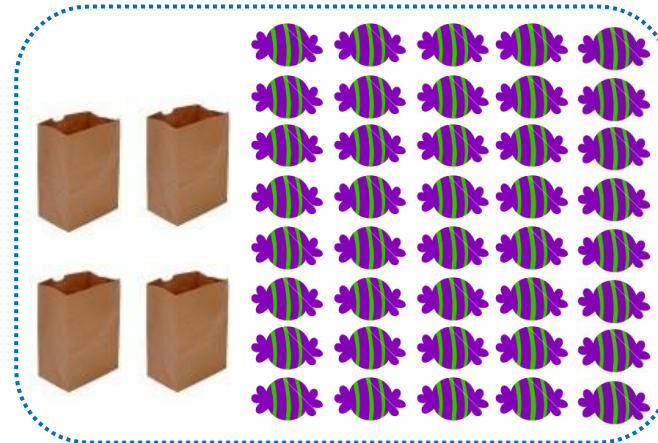
10
↓
1 DEZENA




↓
__ **DEZENAS**



↓
__ **DEZENAS**



↓
__ **DEZENAS**



↓
__ **DEZENAS**



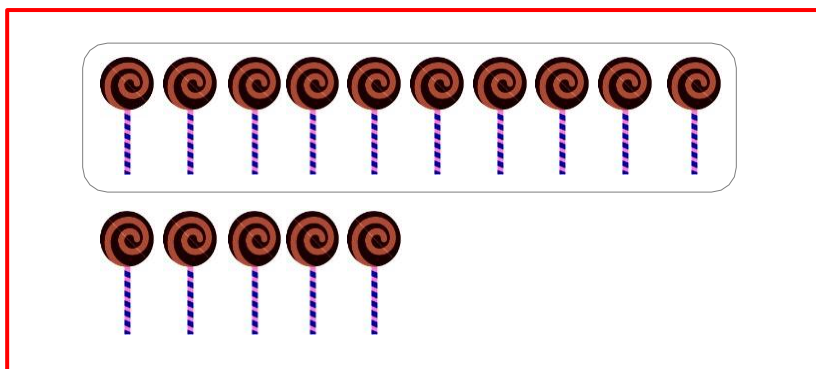
5

12345678910




Meu nome é _____ Hoje é dia ____ / ____ / ____.

CONHECENDO O QUADRO VALOR DE LUGAR

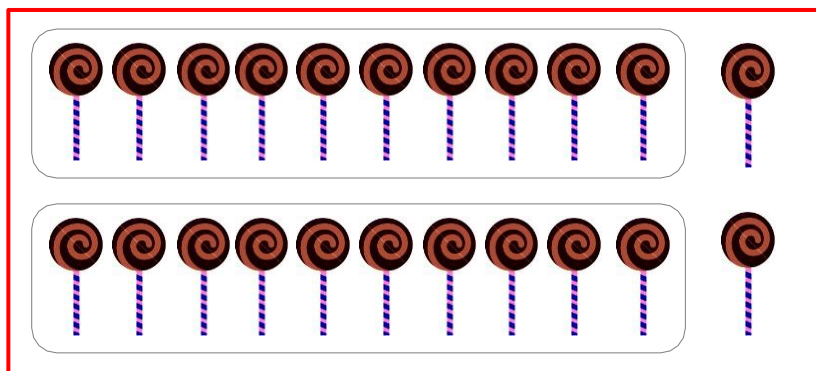


TOTAL DE
PIRULITOS

15



DEZENA	UNIDADE
1	5



TOTAL DE
PIRULITOS



DEZENA	UNIDADE



VOCÊ CONSEGUIU
DESCOBRIR O
SEGREDO?

NO NÚMERO 15
O 1 REPRESENTA
A DEZENA E O 5 AS
UNIDADES!





Meu nome é _____ Hoje é dia ____/____/____.

DITADO DE NÚMEROS



DICA 1: TENHO DUAS DEZENAS E 4 UNIDADES.

DICA 2: SOU IGUAL A 10 MAIS 7.

DICA 3: TENHO DOIS ALGARISMOS. COMEÇO COM 3 E TERMINO COM 0.

1

2

?

3

?

?

?

?

4

5

6

DICA 4: TENHO UMA DEZENA A MAIS QUE 40.

DICA 5: TENHO 4 DEZENAS E 2 UNIDADES.

DICA 6: TENHO 38 UNIDADES.



?

36

?

?



12345678910



Meu nome é _____ Hoje é dia ____ / ____ / ____.

COMPLETE O QUADRO NUMÉRICO E ESCREVA COM OS SEUS COLEGAS SOBRE SUAS DESCOBERTAS.

1		3	4	5	6	7	8	9	10
11		13	14	15	16	17	18	19	20
21		23	24	25	26	27	28	29	30
31		33	34	35	36	37	38	39	40
41		43	44	45	46	47	48	49	50
61		63	64	65	66	67	68	69	70
71		73	74	75	76	77	78	79	80
81		83	84	85	86	87	88	89	90
91		93	94	95	96	97	98	99	100

